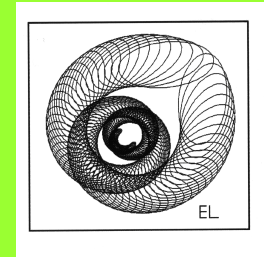


Dr. Eberhard Lehmann  
Mirza@snaflu.de  
www.snaflu.de/~mirza



## Bildungsstandards in Klassenarbeiten mit CAS

### Erwerb mathematischer Kompetenzen beim Arbeiten mit CAS-Bausteinen

- Im Mathematik-Unterricht mit Computerprogrammen erweist sich die Verwendung von Bausteinen (Modulen) mit Parametern als ein wichtiges Arbeitsprinzip.
- Mit der Definition, Anwendung und Analyse von Bausteinen werden alle in den Bildungsstandards genannten allgemeinen mathematischen Kompetenzen angesprochen.
- In dem Vortrag werden diese Aussagen durch Baustein-Beispiele aus dem Unterricht und aus Klassenarbeiten belegt.

Literatur:

E. Lehmann: Klassenarbeiten mit Computeralgebra in der Sekundarstufe 1 (Texas Instruments 2004), u.a. mit „Tipps für den Entwurf von Klassenarbeiten mit CAS“

E. Lehmann: Berliner Beiträge zum Mathematikunterricht mit Computern, Heft 1, 2004

In den "Bildungsstandards im Fach Mathematik für den mittleren Schulabschluss" (KMK) finden sich in Kapitel 4.2 "Kommentierte Aufgabenbeispiele". Nach der jeweiligen Aufgabenstellung wird ein "Lösungsskizze mit der Angabe von Leitideen und allgemeinen mathematischen Kompetenzen sowie deren Zuordnung zu Anforderungsbereichen angegeben".

Leitideen		Allgemeine mathematisch Kompetenzen	Anforderungsbereiche
L1	Zahl	K1 Mathematisch argumentieren	AI Reproduzieren
L2	Messen	K2 Probleme mathematisch lösen	AII Zusammenhänge herstellen
L3	Raum und Form	K3 Mathematik modellieren	AIII Verallgemeinern und Reflektieren
L4	Funktionaler Zusammenhang	K4 Mathematische Darstellungen verwenden	
L5	Daten und Zufall	K5 Mit symbolischen, formalen und technischen Elementen der Mathematik umgehen	
		K6 Kommunizieren	

	Lösungen und Hinweise	Leitidee	Anforderungsbereich		
			I	II	III
z.B.	.....	L3	K4		
z.B.	.....	L2		K2	
z.B.	.....	L3			K1

Zeichnen von Hand

**Zeichnen mit CAS**

Vorgegebene **Zeichnungen** mit CAS **nachmachen** oder umgekehrt

Vorgelegte **Bildschirm-ausdrucke** erläutern lassen

Vorgegebene **Rechnungen** mit CAS **nachmachen** oder umgekehrt

Rechnen von Hand

**Rechnen mit CAS**

Rechnungen **visualisieren** oder Visualisierung durch Terme rechnerisch erfassen

Konstruktion von Aufgaben mit CAS-Verwendung

Aufgaben aus dem **Bausteindreieck** (Baustein definieren, analysieren, anwenden) stellen

**Modellieren** mit CAS-Hilfe

CAS-Ansätze und CAS-Lösungen / Lösungsteile **dokumentieren**

Mit dem CAS Rechenergebnisse und Zeichnungen **kontrollieren**

Mit dem CAS **experimentell arbeiten**, dokumentieren und auswerten lassen

Man nehme eine schon vorhandene Aufgabe als "Kern" und wandle diese CAS-gemäß ab oder ergänze sie (Aufgabenvariation).

**Und wo kommen die Aufgaben her?**

Man konstruiere eine neue Aufgabe mit eigenen Ideen für CAS-Einsatz.

Materialien für TI-89, TI-92, Voyage 200

Eberhard Lehmann

# Klassenarbeiten mit Computeralgebra in der Sekundarstufe 1

Arbeitstexte - Lösungsansätze  
Kommentare zum CAS-Einsatz - Ergänzungen

© Texas Instruments 2004

# Erwerb mathematischer Kompetenzen (allgemeine und fachliche) beim Arbeiten mit CAS-Bausteinen

Module verwenden - ein besonderes Arbeitsprinzip beim Computereinsatz  
mit diverser Software

Beispiele:            Beispiele aus dem Unterricht  
                         Aufgaben aus Klassenarbeiten

## Formeln der Sek.1

Bino(a,b,n)=

$$(a+b)^2 = a^2+2ab+b^2$$

$$(a-b)^3 = a^3+3a^2b+3ab^2+b^3$$

Der Blick  
wird auf  
die  
Parameter  
gelenkt:

f(x,m,n)=

$$f(x) = m*x+n$$

g(x,a,b,c)=

$$g(x) = a*x^2+b*x+c$$

Pytha(a,b,c)=

$$a^2+b^2=c^2$$

V(r,h)=

$$V = 2\pi r*(r+h)$$

Zylindervolumen

Abst(ax,ay,bx,by)

$$|AB| = \text{sqrt}((ax-bx)^2+(ay-by)^2)$$

usw.

Das Benutzen von Modulen / Bausteinen ist also nicht  
grundsätzlich neu für unseren Mathematik-Unterricht.

Neu ist die Fokussierung der Formeln auf die auftretenden Parameter und die Ausnutzung der speziellen Möglichkeiten von Computerprogrammen zur Arbeit mit Bausteinen - in der Algebra und der Geometrie.

Warum sind Bausteine (Module) mit Parametern für den Mathematik-Unterricht so wichtig?

**Die folgenden Beispiele belegen die vielfältigen Möglichkeiten des Erwerbs mathematischer Kompetenzen bei der Arbeit mit Bausteinen**

# Geradenbaustein - von der Mathematik zur Kunst

**Zeichne (an einem Computer)  
möglichst viele Geraden durch den  
Punkt P(3, 1)!**

Lösung: Die Schüler zeichnen in der Regel  
zunächst einige sich sofort anbietende  
Geraden, etwa mit den Gleichungen  $y = 1$ ,  $y = x - 2$  (Parallele zu  $y = x$ ). Es dauert nicht lange  
bis weitere Geraden eingetragen werden und  
die Frage nach einer Formel entsteht. Diese  
wird dann als Baustein definiert:

Punkt (3,1), Steigung m

$$y - 1 = m \cdot (x - 3)$$

$$y = 1 + m \cdot (x - 3)$$

Als Baustein im Voyage-Taschencomputer:

$$1 + m \cdot (x - 3) \rightarrow \text{ger}(m, 1, 3)$$

Allgemein: Gerade durch Q(a,b)

$$b + m \cdot (x - a) \rightarrow \text{ger1}(x, m, a, b)$$

oder auch

$$y = m \cdot x + n$$

$$b = m \cdot a + n$$

$$n = b - m \cdot a$$

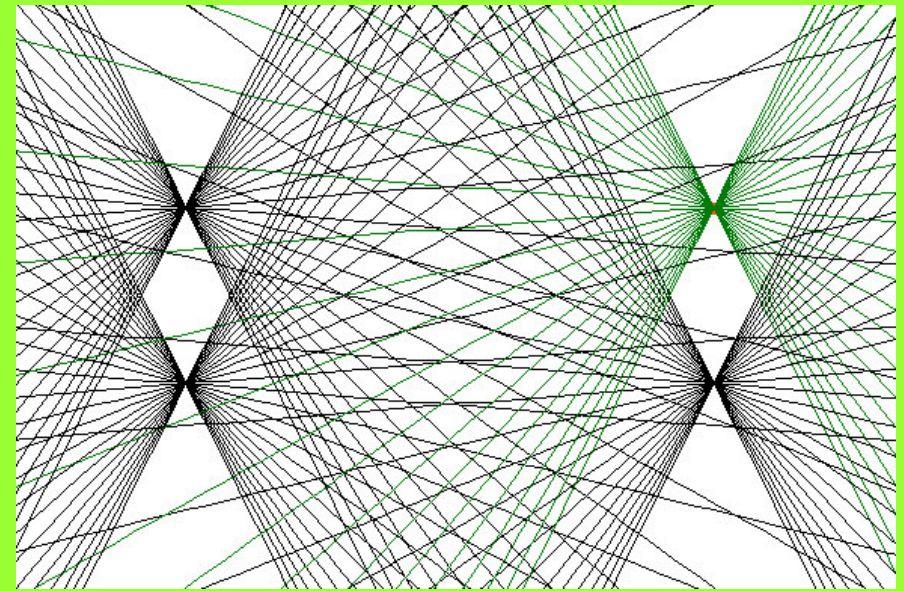
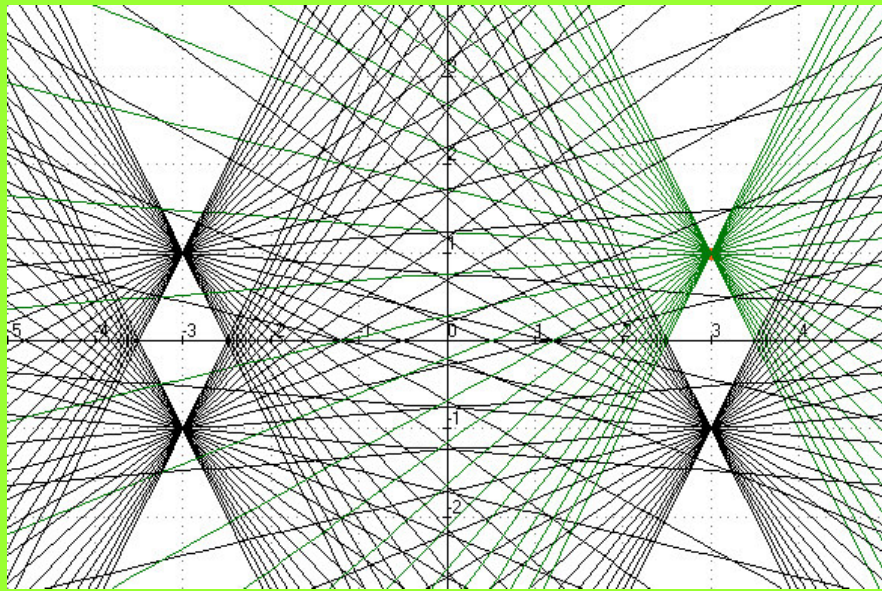
$$y = m \cdot x + (b - a \cdot m)$$

$$m \cdot x + (b - a \cdot m) \rightarrow \text{ger2}(x, m, a, b)$$

[Plot2-oetz2.exe](#)


Geraden-durch-3-1.pl2





Geraden-durch-a-b-Kunst.pl2

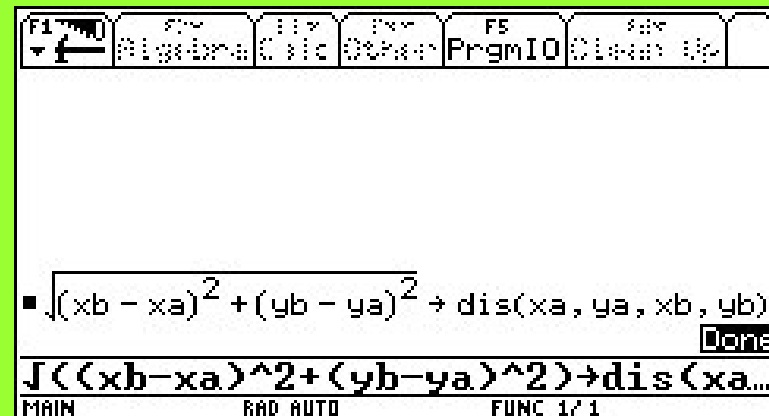
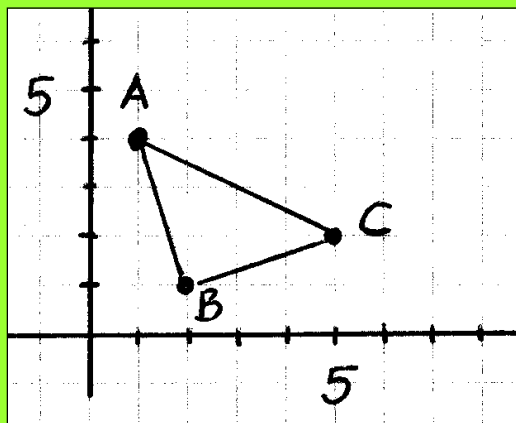
[Plot2-oetz2.exe](#)



## Klassenarbeit P-2

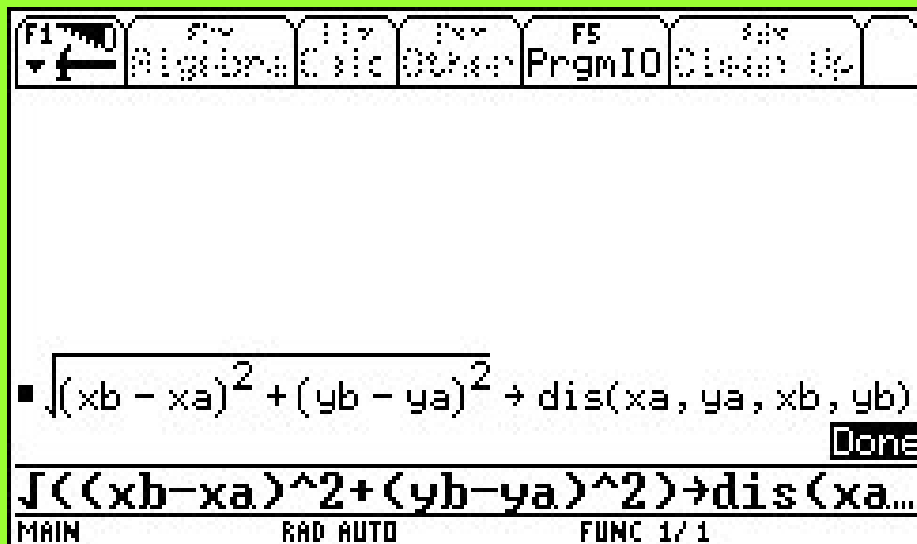
**Aufgabe 1:** Im Kosy findest du einen Dreiecksparkur, der durch die drei Bojen A, B und C abgesteckt wurde und von Segelbooten einmal umrundet wird. Eine Längeneinheit im Kosy entspricht einem Kilometer in der Natur. Gesucht ist die Länge der Segelstrecke.

- Der TI-Baustein rechts im Bild hilft beim Lösen des Problems. Erkläre den Baustein (Skizze !)
- Berechne nun die Länge des Dreiecksparkurs.

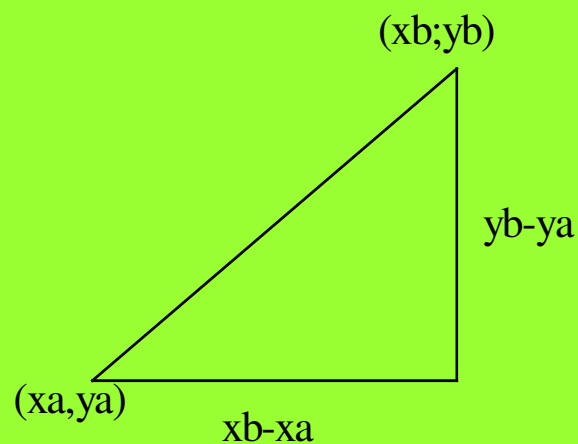


## Lösungsansätze - Kommentare zum CAS-Einsatz

Aufgabe 1:

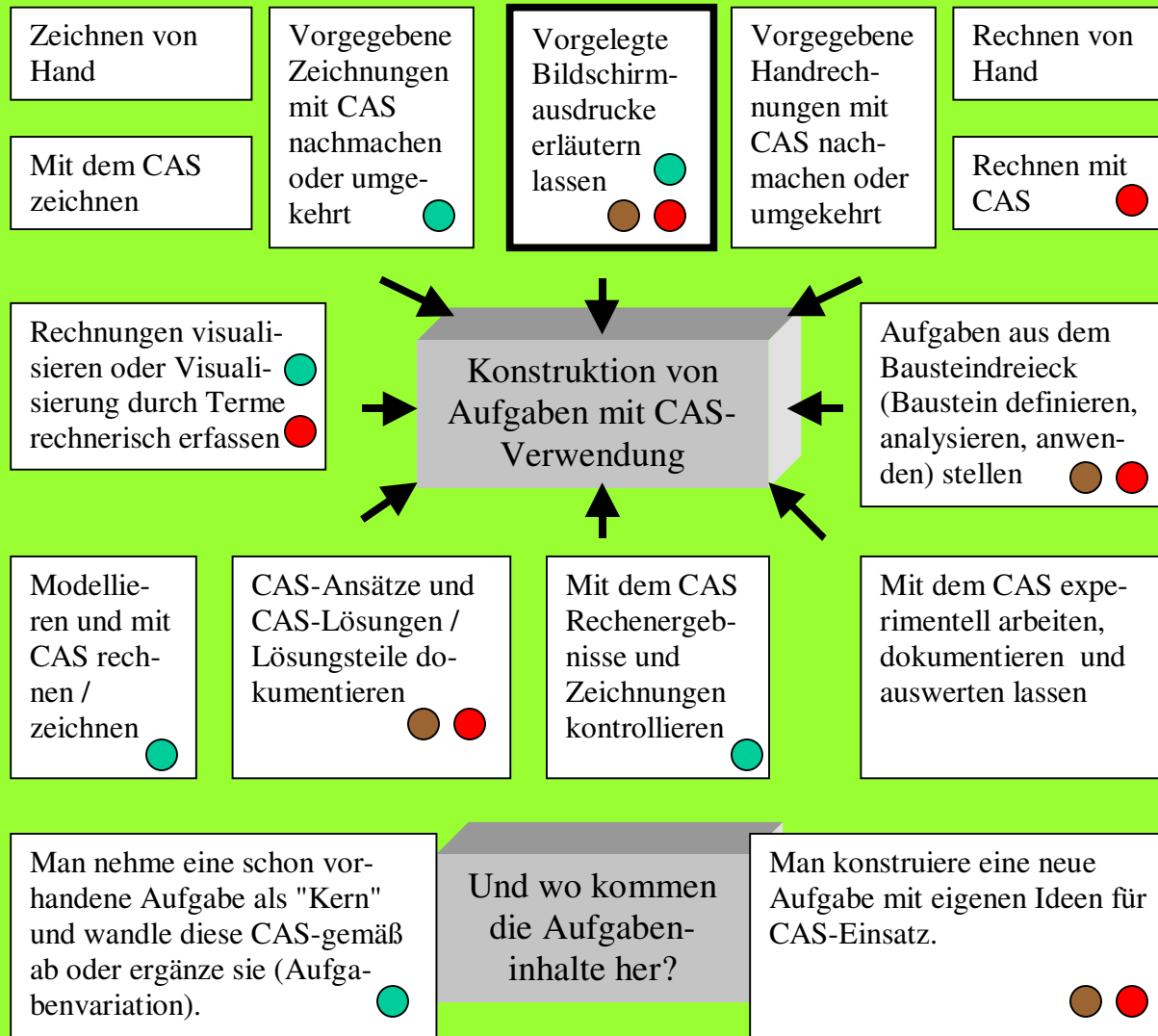


The screenshot shows a TI-84 Plus calculator interface. At the top, there are function keys: F1 (2nd), F2 (Algebra), F3 (Calc), F4 (Data), F5 (PrgmIO), and F6 (Clean Up). The main display area contains the formula:  $\sqrt{(x_b - x_a)^2 + (y_b - y_a)^2} \rightarrow \text{dis}(x_a, y_a, x_b, y_b)$ . Below the formula, the text  $\sqrt{(x_b - x_a)^2 + (y_b - y_a)^2} \rightarrow \text{dis}(x_a, y_a, x_b, y_b)$  is repeated. At the bottom of the screen, the status bar shows "MAIN", "RAD AUTO", and "FUNC 1/1".



- Die Begründung für den Baustein folgt aus nebenstehender Dreiecksfigur.
- Nun müssen nur noch drei Bausteinaufrufe addiert werden:  
 $\text{dis}(1,2,4,1)) + \text{dis}(5,2,2,1) + \text{dis}(5,2,1,4)$ .

Die folgende Abbildung fasst mögliche Aufgabenansätze zusammen:



● Aufgabe 1 (Shi)

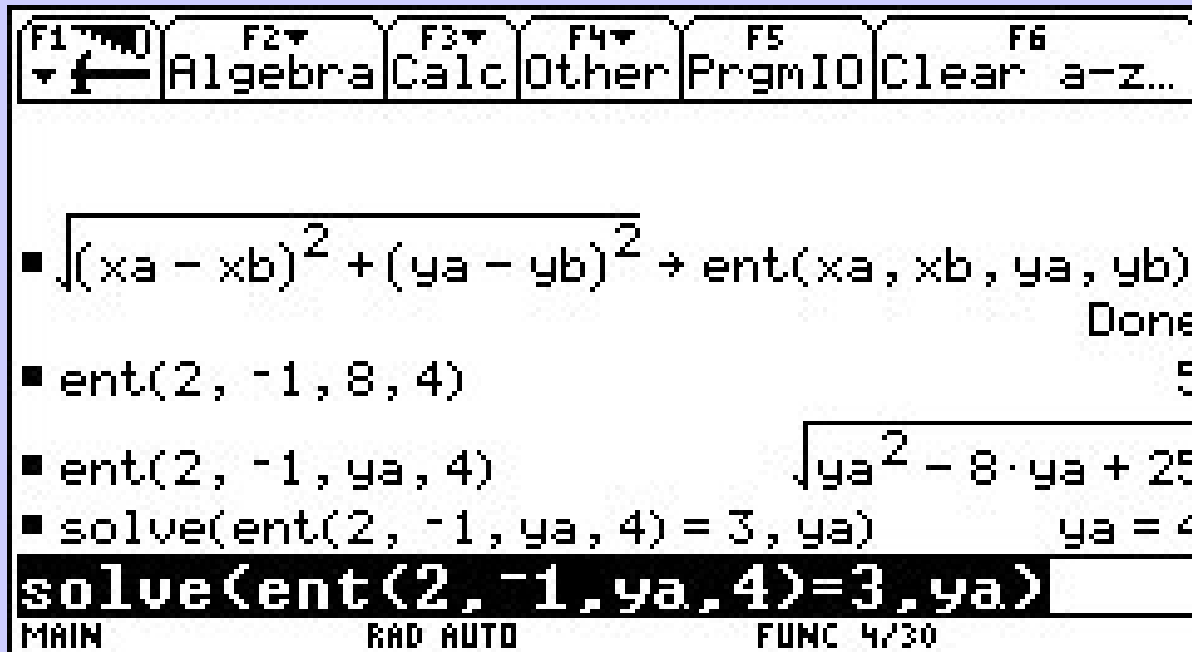
● Aufgabe 3 (Shi)

● Aufgabe 4 (Reiß)

Angelika Reiß - aus einer Klassenarbeit Klasse 9

Aufgabe 4:

ca. 15 Minuten



Erkläre den Bildschirmausdruck.

Hinweis: Es ist günstig, eine Zeile nach der anderen genau zu erklären

## Eine Lösung zu Aufgabe 4

**Aufgabe 4:** Erkläre den Bildschirmausdruck.

The image shows a TI-84 Plus calculator screen with the following content:

- Function keys: F1 (Left Arrow), F2 (Algebra), F3 (Calc), F4 (Other), F5 (PrgmIO), F6 (Clear a-z...)
- Formula:  $\sqrt{(x_a - x_b)^2 + (y_a - y_b)^2} \rightarrow \text{ent}(x_a, x_b, y_a, y_b)$
- Result: Done
- Calculation:  $\text{ent}(2, -1, 8, 4)$  → 5
- Equation:  $\text{ent}(2, -1, y_a, 4) = \sqrt{y_a^2 - 8 \cdot y_a + 25}$
- Solve command:  $\text{solve}(\text{ent}(2, -1, y_a, 4) = 3, y_a)$  →  $y_a = 4$
- Highlighted solve command:  $\text{solve}(\text{ent}(2, -1, y_a, 4) = 3, y_a)$
- Status bar: MAIN, RAD AUTO, FUNC 4/30

1) Der Baustein enthält die Formel für den Abstand zweier Punkte  $(x_a, y_a)$  und  $(x_b, y_b)$ , ggf. Skizze dazu.

2) Es folgen

Bausteinaufrufe:

a) Berechnung des Abstands der Punkte  $(2, 8)$  und  $(-1, 4)$

b)  $(2, y_a)$  ist eine Senkrechte in  $x=2$ .  $\text{ent}(2, -1, y_a, 4)$  beschreibt alle Abstände des Punktes  $(-1, 4)$  von der Senkrechten.

Der solve-Befehl fragt: Für welchen  $y$ -Wert ist der Abstand des Punktes  $(-1, 4)$  von der Geraden gleich 3 Längeneinheiten? Der  $y$ -Wert ist 4, es handelt sich also um den Punkt  $(2, 4)$ .

## Allgemeine Kompetenzen

**a) Der TI-Baustein rechts im Bild hilft beim Lösen des Problems. Erkläre den Baustein (Skizze !)**

- Mathematisch argumentieren
- Probleme mathematisch lösen
- Mathematische Darstellungen verwenden
- Mit symbolischen, formalen und technischen Elementen der M umgehen
- Kommunizieren (Lösungswege darstellen),

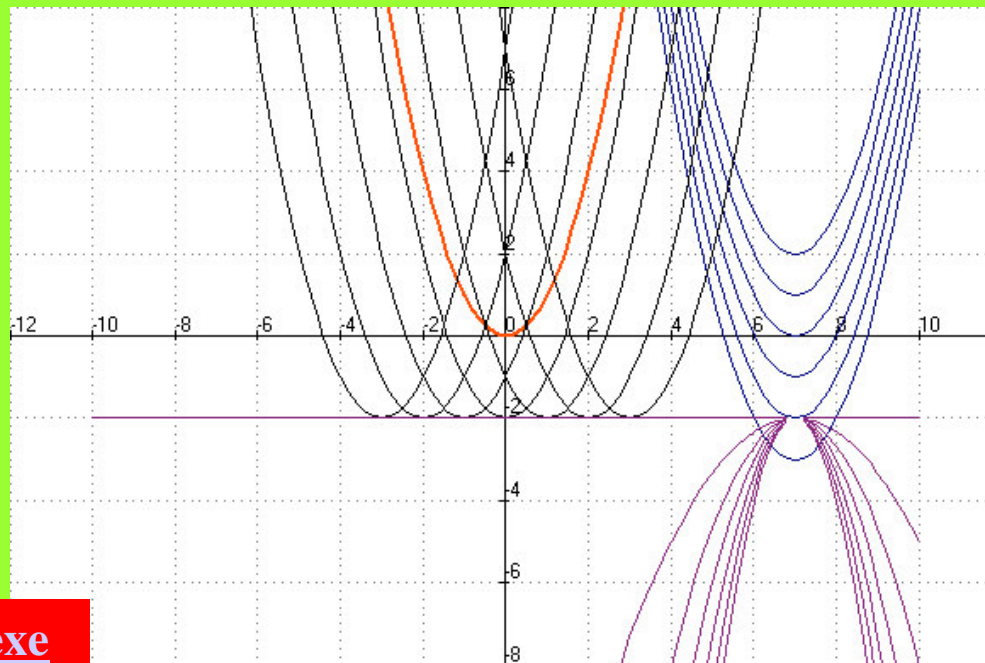
**b) Berechne nun die Länge des Dreiecksparkurs.**

- Probleme mathematisch lösen
- Mathematische Darstellungen verwenden
- Mit symbolischen, formalen und technischen Elementen der M umgehen
- Kommunizieren (Lösungswege darstellen)

# Ein Parabelbaustein

f1:  $a \cdot (x-b)^2 + c$     *Beim TI-Voyage  $a \cdot (x-b)^2 + c \rightarrow \text{parabel}(a,b,c)$*   
f2:  $f1(1,0,0)$   
f3:  $f1(1,7,u)$   
f4:  $f1(1,v,-2)$   
f5:  $\{f1(v,7,-2) < -2 : f1(v,7,-2) : \text{undef}\}$

Parabel-a-b-c.pl2



Plot2-oetz2.exe



Bau-  
steine  
und  
Kom-  
peten-  
zen

f1:  $a \cdot (x-b)^2 + c$     *Beim TI-Voyage  $a \cdot (x-b)^2 + c \rightarrow \text{parabel}(a,b,c)$*   
 f2:  $f1(1,0,0)$     f3:  $f1(1,7,u)$   
 f4:  $f1(1,v,-2)$     f5:  $\{f1(v,7,-2) < -2 : f1(v,7,-2) : \text{undef}\}$

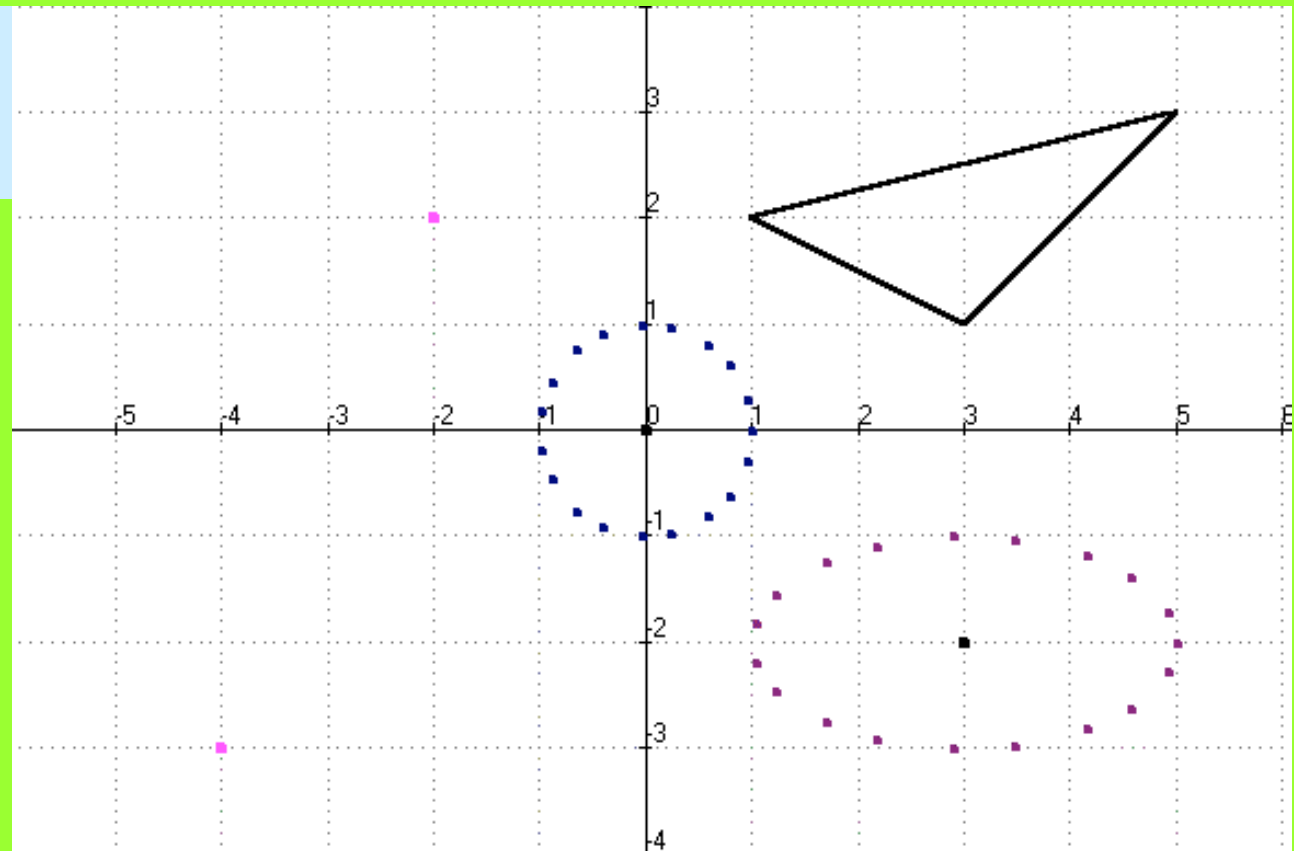
Leitideen		Allgemeine mathematisch Kompetenzen	Anforderungsbereiche
L1	Zahl	K1 Mathematisch argumentieren	AI Reproduzieren
L2	Messen	K2 Probleme mathematisch lösen	AII Zusammenhänge herstellen
L3	Raum und Form	K3 Mathematik modellieren	AIII Verallgemeinern und Reflektieren
L4	Funktionaler Zusammenhang	K4 Mathematische Darstellungen verwenden	
L5	Daten und Zufall	K5 Mit symbolischen, formalen und technischen Elementen der Mathematik umgehen K6 Kommunizieren	

**Komprimierung von Wissen (K4):** Bausteine (Module) können als kompakte Einheiten aufgefasst werden, in denen das Wissen verdichtet ist und in denen die Operationen als Paket abgerufen werden können.

**Modellbildung(K3):** Bausteine können von den Schülern selbst definiert werden und tragen damit zur eigenständigen Modellierung von Problemen durch die Schüler bei. Die Analyse von fertigen Bausteinen ist eine auch eine Analyse von Modellen.



Kompetenzerwerb mit Bausteinen im Unterricht Klasse 9

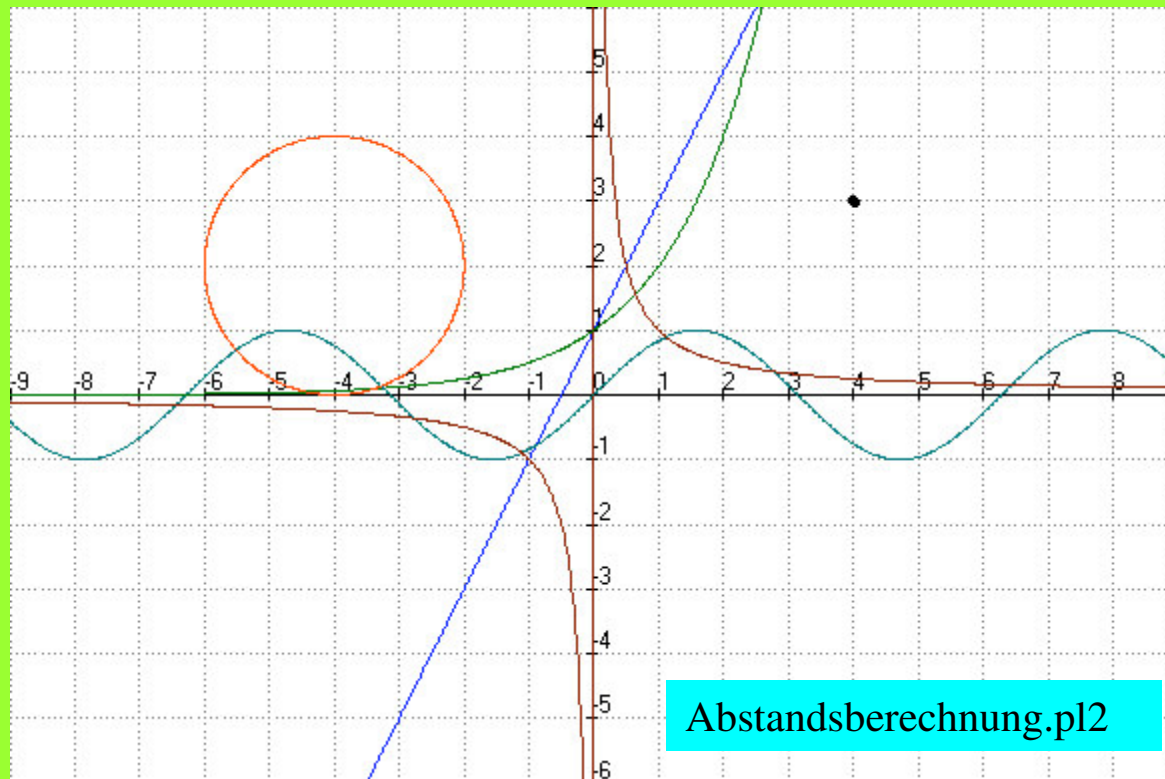


Arbeitsbogen: Abstandsberechnungen Klasse 9, Einführung eines Abstandsbausteins

F1	Algebra	Calc	Other	F5	PrgmIO	Clear Up
$\sqrt{(ax - bx)^2 + (ay - by)^2} \rightarrow \text{entf}(ax, ay, bx, by)$						
						Done
entf(1, 0, 8, 0)						7
entf(3, 2, 8, -5)						$\sqrt{74}$
entf(3, 2, x, 2 \cdot x + 1)						$\sqrt{5 \cdot (x^2 - 2 \cdot x + 2)}$
2 \cdot x + 1 \rightarrow y1(x)						Done
$\sqrt{5 \cdot (x^2 - 2 \cdot x + 2)} \rightarrow y2(x)$						
MAIN		RAD EXACT		FUNC 6/6		

## Abstandsberechnungen im Leistungskurs

Wie weit ist der Punkt  $P(4,3)$  von dem Graphen entfernt?



```

F1 Algebra Calc Digits PrgmIO Clean Up
▾ ←
▪ line abstand(a,b,c,d) = √((a-c)² + (b-d)²) Done
▪ abstand(5,3,5,7) 4
▪ x² → f(x) Done
▪ solve( d/dx (abstand(5,3,x,f(x))) = 0, x )
  x = 1.94551
MAIN RAD AUTO FUNC 11/12

```

Lösung der  $x^2$ -Gruppe

```

F1 Algebra Calc Digits PrgmIO Clean Up
▾ ←
▪ √((a-c)² + (b-d)²) → abstand(a,b,c,d) Done
▪ sin(x) → f(x) Done
▪ solve( d/dx (abstand(5,3,x,f(x))) = 0, x )
  = 5 or (sin(x))² - 6·sin(x) + x·(x-10) = 0
  ... (abstand(5,3,x,f(x)),x) = 0, x)
MAIN RAD APPROX FUNC 7/7

```

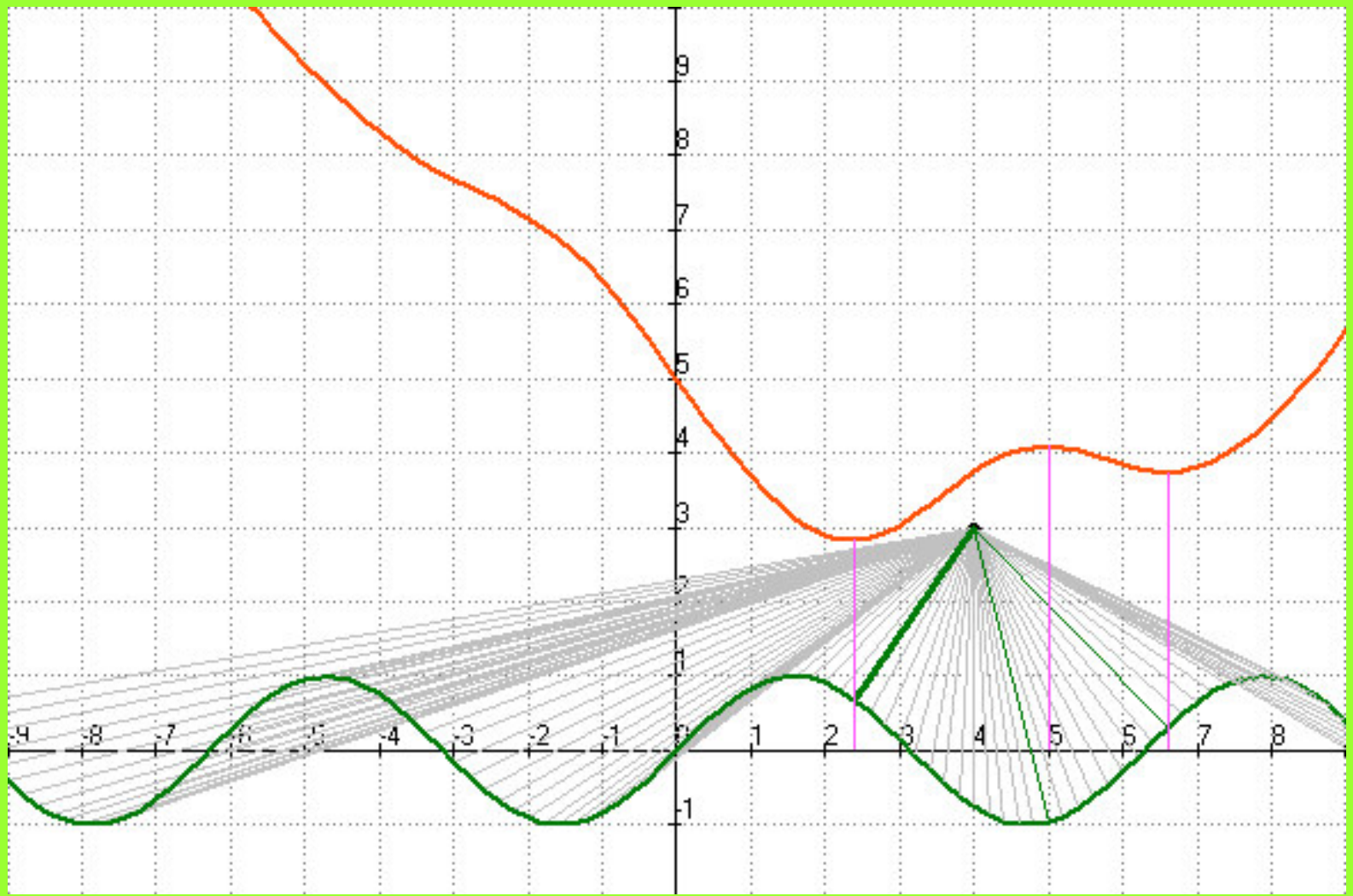
Lösungsversuch der  $\sin(x)$ -Gruppe

Aus dem Unterricht mit dem Abstandsbaustein im  
Leistungskurs - eine Visualisierung / Animation

ANIMATO starten, Datei =

**Abstandsberechnung-sin-mit-Baustein.pl2**

Plot2-oetz2.exe



f1: 4,3 hier ggf. Punkt ändern > **Experimentieren**  
f4: sin(a) hier ggf. Funktion ändern > **Experimentieren**

f6: 4,3,x,f4(x) viele Strecken: Punkt <> Graf

f11: 2.4,f4(2.4),4,3 Abstände näherungsweise, aus der

f12: 5,f4(5),4,3 Wertetabelle

f14: 6.6,f4(6.6),4,3

**f15:  $\text{sqrt}((a-c)^2+(b-d)^2)$ , Abstandsbaustein**

**f16:  $f15(4,3,x,f4(x))$ , Aufruf des Abstandsbausteins**

( ausführlich, in diesem Fall:  $\text{sqrt}((4-x)^2+(3-\sin(x))^2)$  )

f17: 6.6,f15(4,3,6.6,f4(6.6)),6.6,f4(6.6) minimale y-Werte

f18: 2.4,f15(4,3,2.4,f4(2.4)),2.4,f4(2.4) der Abstandsfunktion

f19: 5,f15(4,3,5,f4(5)),5,f4(5)



Prinzipiell können alle Abstandsaufgaben der Art “*kürzester Abstand Punkt  $P(a,b)$  zum Graphen von  $y = f(x)$* ” mit den folgenden Bausteinen bearbeitet werden:

(1)  $\text{SQRT}((a-c)^2 + (b-d)^2) \rightarrow \text{abstand}(a,b,c,d)$

(2) Funktionsterm  $\rightarrow f(x)$

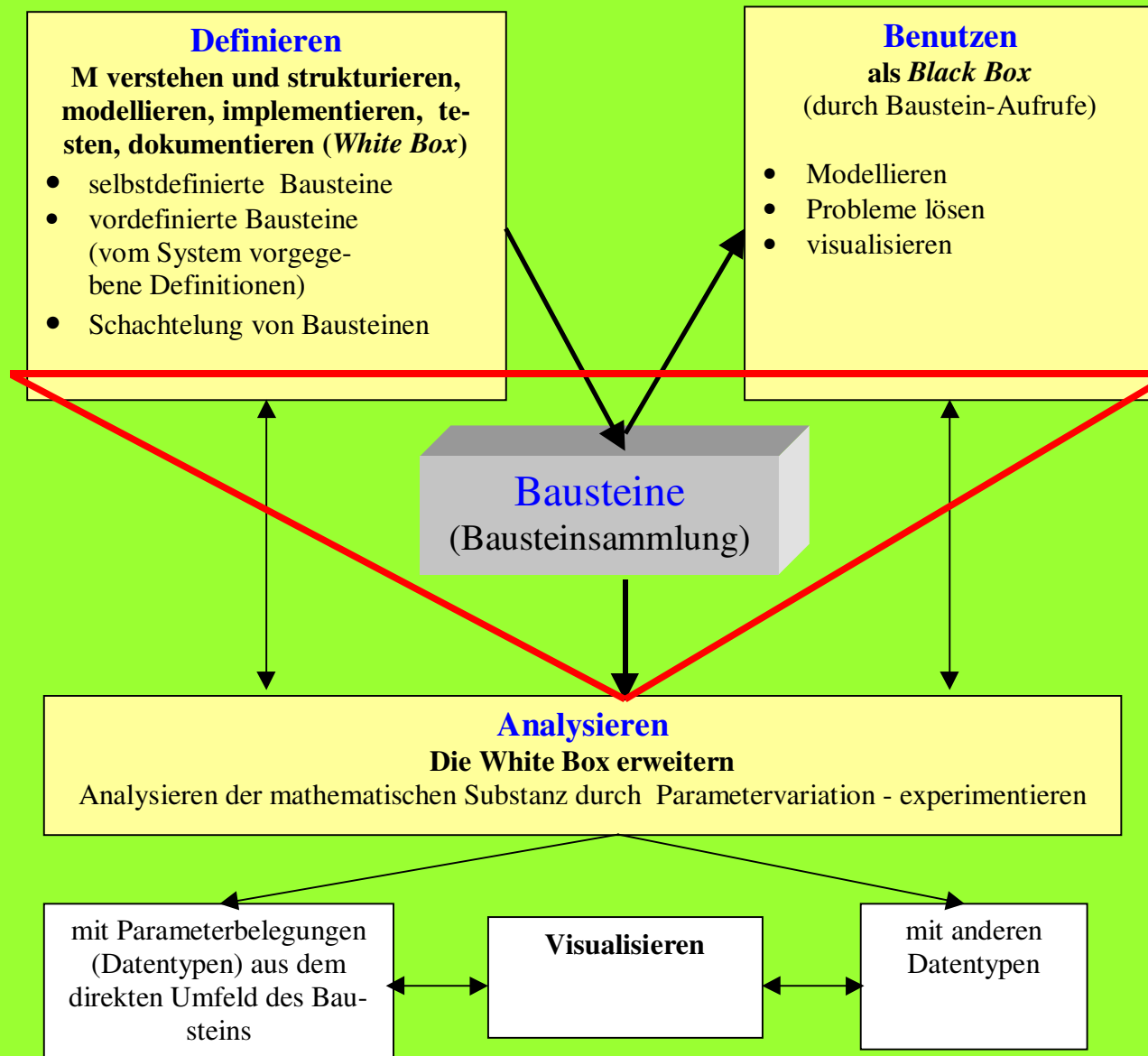
(3)  $\text{SOLVE}(d/dx(\text{abstand}(a,b,x,f(x))), x) = 0, x)$

Dabei müssen Sonderfälle beachtet werden.

Diese Sonderfälle betreffen z. B. die Lage des Punktes  $P(a,b)$  und die Art der Funktionen bzw. Relationen. Auch lässt sich die Lösung manchmal auch elementarer finden.

# Das Bausteindreieck

## grundlegende Informationen über das Bausteinprinzip



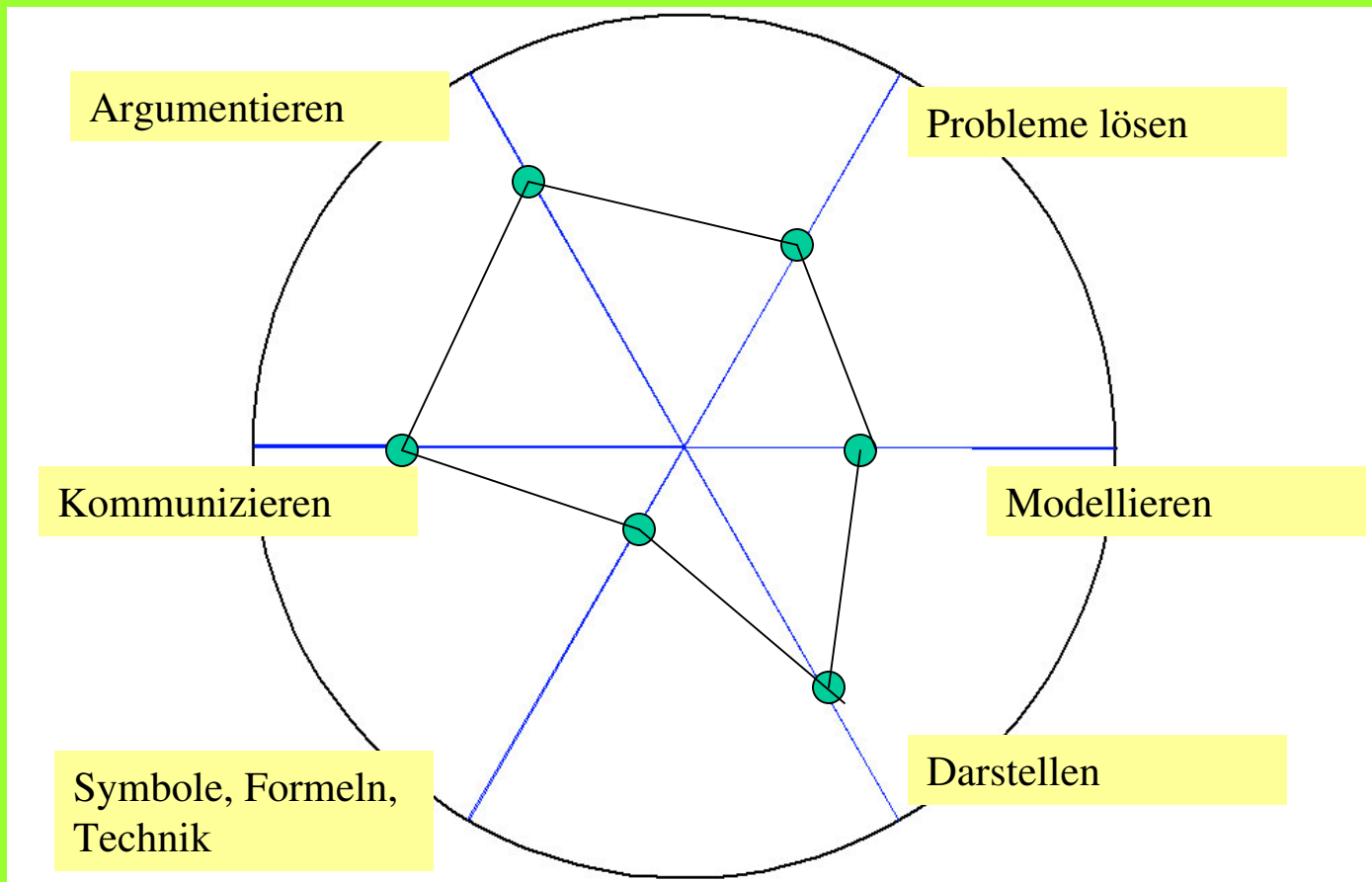
### Das Baustein-Dreieck

Kompetenz erwerb im Unterricht - und viele Möglichkeiten für Klassenarbeitsaufgaben

Abb. Das Bausteindreieck: Definieren, Benutzen, Analysieren

Leitideen		Allgemeine mathematisch Kompetenzen	Anforderungsbereiche
L1	Zahl	K1 Mathematisch argumentieren	AI Reproduzieren
L2	Messen	K2 Probleme mathematisch lösen	AII Zusammenhänge herstellen
L3	Raum und Form	K3 Mathematik modellieren	AIII Verallgemeinern und Reflektieren
L4	Funktionaler Zusammenhang	K4 Mathematische Darstellungen verwenden	
L5	Daten und Zufall	K5 Mit symbolischen, formalen und technischen Elementen der Mathematik umgehen	
		K6 Kommunizieren	

Kompetenz-Spinne,  
z.B. für ein Modul



## **Probleme mit Aufgabenstellungen, die der Abfrage mathematischer Kompetenzen dienen sollen:**

**Zuordnungen zu den Leitlinien  $L_i$  sind häufig nicht eindeutig. Oft kommen mehrere  $L_i$  in Frage,**

**ähnlich ist es mit den Kompetenzen  $K_i$  und den Anforderungsbereichen  $A_i$ .**

**Das ist insbesondere bei komplexeren Aufgaben der Fall.**

**Also: Wenn nun eindeutige Zuordnungen erreicht werden sollen, wird vermutlich der Weg beschritten, die Aufgabe in kleine Teile zu zerlegen - zu "zerhacken". Ein gefährliches Vorgehen, denn damit geht auch die Offenheit von Aufgaben verloren.**

## Zusammenfassung und Tipps für die Lehrpersonen

A Die erfahrene, bisher schon erfolgreiche Lehrperson (die auch den Computer sinnvoll einsetzt)

Sie führt ihren Unterricht wie bisher (mit CAS). Dabei werden die LKKA durch die S im wesentlichen “automatisch (beiläufig) erworben. Dennoch sollte gelegentlich ein Blick auf die LKKA geworfen werden.

B Die noch nicht so erfolgreiche Lehrperson

Sucht und pflegt den Kontakt mit A und lässt sich beraten. - Ein häufiger Blick auf die von den S erworbenen LKKA ist nützlich. Aber:

**Ein krampfhaftes Abarbeiten der LKKA muss vermieden werden.**

**Unmittelbare Anlässe zur Reflexion und Besinnung auf die LKKA sind die Klassenarbeiten und Vergleichsarbeiten.**

Sie registriert, dass ein sinnvoller Computereinsatz in vielen Situationen und auf Dauer für die KK förderlich ist.

Setzt zur Steigerung des Erfolgs gelegentlich / öfter den Computer ein.

**Wichtig für alle: Kommunikation und Koordination im Fachbereich Mathematik.**

**Reflektieren Sie auch mit den Schülern den Kompetenzgewinn!**

**Danke für das Zuhören!**



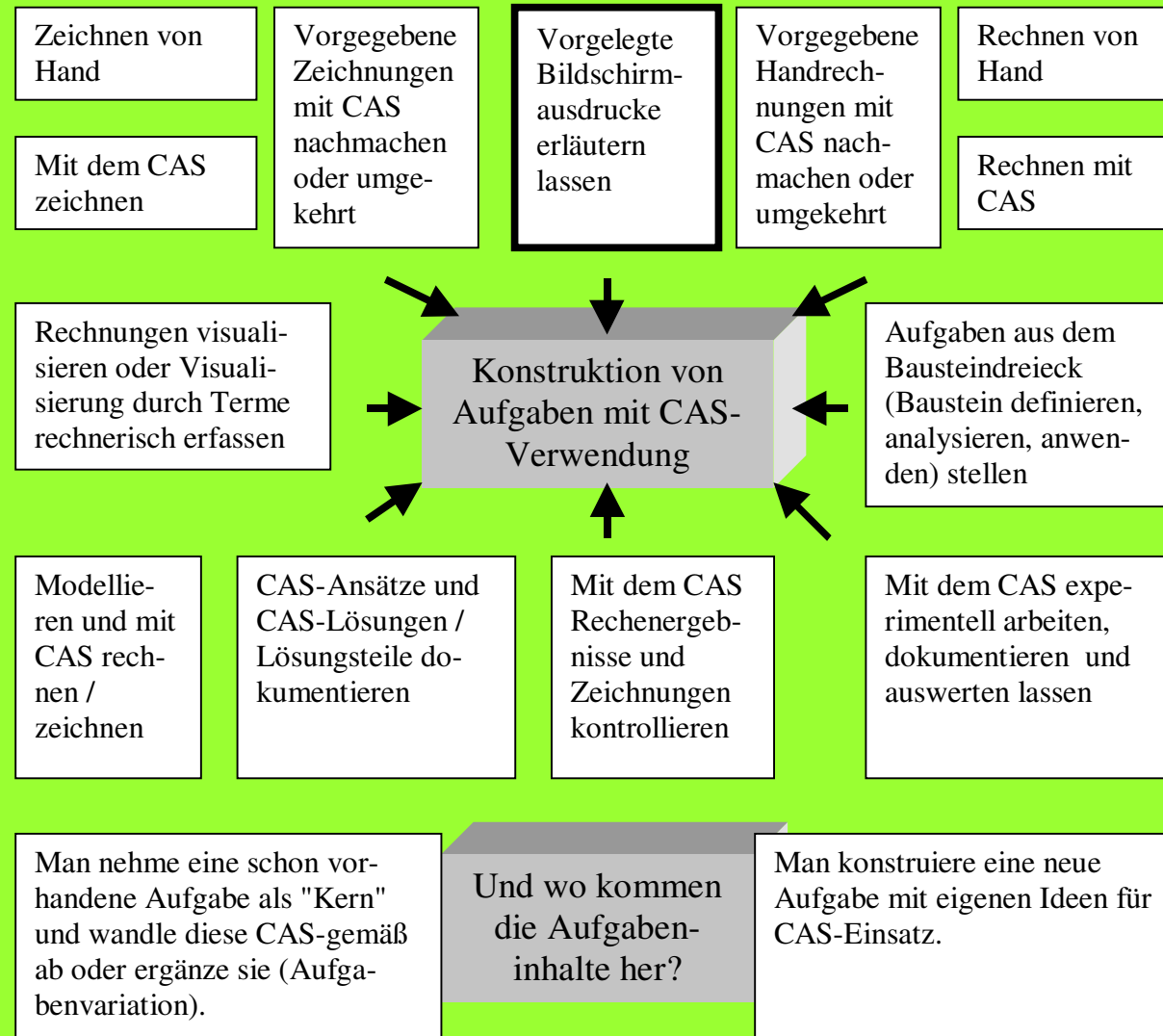
Wieviel Zeit braucht man zum Ersteigen der Düne und welche Kompetenzen werden dazu benötigt?

Ende

Weitere Folien:

Die anderen Klassenarbeitsaufgaben von Shi

Die folgende Abbildung fasst mögliche Aufgabenansätze zusammen:



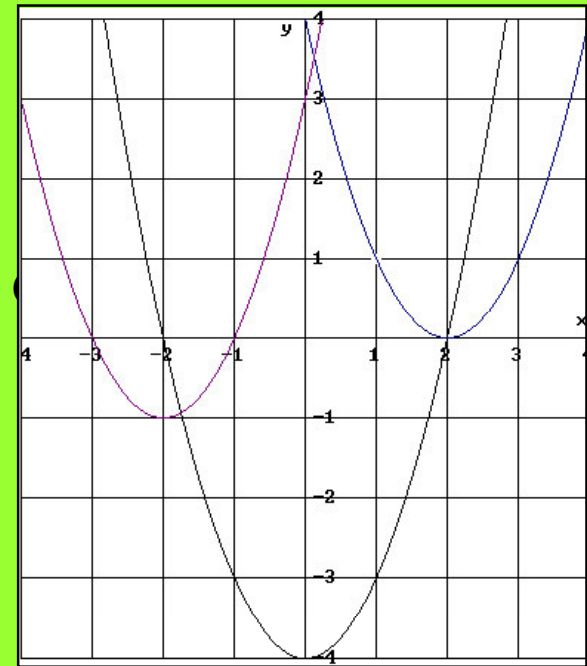


## Fortsetzung der Klassenarbeit

Aufgabe 3:

- Rechts sind 3 Parabeln gezeichnet. Gib die Funktionsgleichungen der drei Parabeln in allgemeiner Form an.
- Gib die Parabeln in Scheitelpunktsform an und zeichne eine von ihnen rechts in das Kosy.

$$f(x) = x^2 + 4x \quad g(x) = x^2 - 3x + 0,25$$



L

K

A

CAS-Grafen zur Kontrolle der Gleichungen

## Fortsetzung der Klassenarbeit

Aufgabe 4:

Berechne die Nullstellen der folgenden quadratischen Funktionen mit einer Handrechnung.

$$f_1(x) = x^2 - 7 \quad f_2(x) = x^2 + 4x \quad f_3(x) = x^2 + 6x + 5 \quad (\text{ca. } 15\%)$$

L      K      A      CAS zur Kontrolle der Handrechnung

Aufgabe 5:

Gib jeweils die Funktionsgleichung einer Parabel mit den folgenden Nullstellen an :

a)  $x_1 = 3 ; x_2 = -3$       b)  $x_1 = -5$       c)  $x_1 = -8 ; x_2 = 0$       (ca. 10%)

Ende der Klassenarbeit

L      K      A      CAS, CAS zur Kontrolle durch Graf oder Rechnung

## **Leitideen** (zu den Klassenarbeitsaufgaben von M.Schimmelpfennig und A.Reiß)

### Die SchülerInnen

#### L1 Zahl

- Nutzen Rechengesetze, auch zum vorteilhaften Rechnen (Hand bzw. CAS)
- Runden Rechenergebnisse sinnvoll (Hand bzw. CAS)
- Beschreiben Vorgehensweisen, denen Algorithmen zu Grunde liegen (hier über CAS)**

#### L2 Messen

- Wählen Einheiten von Größen situationsgerecht aus
- Lesen Punktkoordinaten ab
- Berechnen Streckenlängen und Umfang eines Dreiecks

#### L 3 Raum und Form

- Operieren gedanklich mit Strecken
- Wenden den Satz des Pythagoras an

#### L4 Funktionaler Zusammenhang

**Der funktionale Zusammenhang wird hier durch die Bearbeitung mit einem CAS-Baustein (mit vier Parametern) deutlich**

- Nutzen von Funktionen
- Erkennen und beschreiben funktionaler Zusammenhänge
- Wenden Funktionen bei der Beschreibung von Problemen an

#### L5 Daten und Zufall

- 000